

Шифр участника Т-38

II тур. Практическая работа

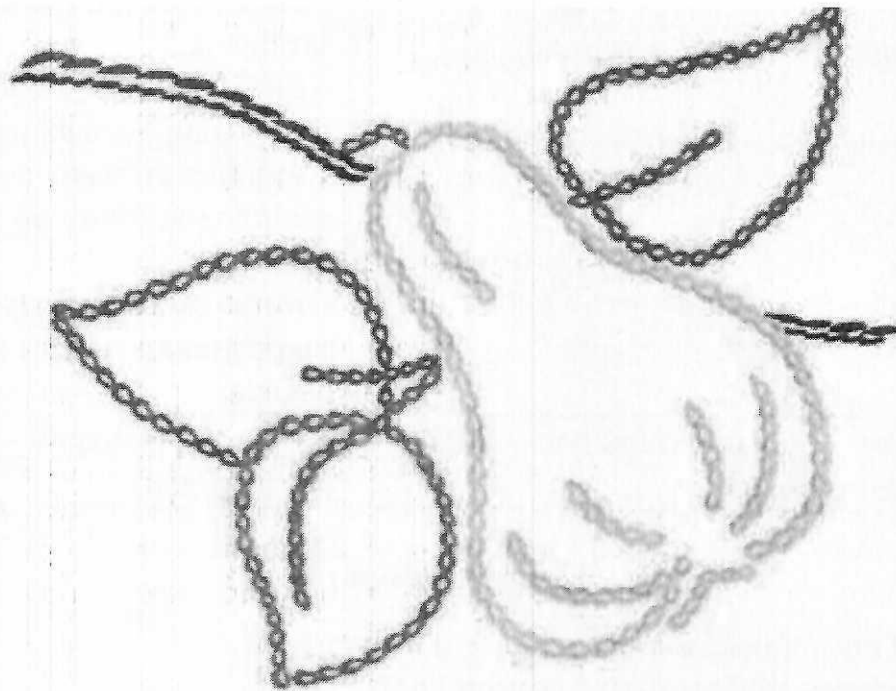
Выполнение вышивки «Груша»

(с использованием вышивального шва по выбору (тамбурный или стебельчатый))

Задание: выполните вышивку предложенного мотива, переведя его на ткань, используя шов из предложенных вариантов.

Материалы, инструменты и оборудование:

ткань из хлопка светлых тонов размером 20 см × 20 см, рабочая коробка или папка с инструментами для выполнения вышивки, пяльца, нитки мулине, игла для вышивания, ножницы, копировальная бумага, карандаш, утюг, гладильная доска.



Шифр участника Т-38

**Инструкционно-технологическая карта
Выполнение вышивки «Груша»**

№ п/п	Операции	Технические условия
1	Прочитайте задание. Продумайте цветовое решение изделия.	
2	Используя лист с мотивом вышивки, аккуратно переведите рисунок на ткань, учитывая центр ткани	См. лист с мотивом вышивки
3	Выполните вышивку, используя различные цвета ниток мулине, применяя ручные вышивальные швы. <i>*Виды вышивальных швов указаны на «листе с мотивом вышивки». См. приложение 1</i>	-цвет ниток по выбору участника; -стежки должны быть одинаковой длины, не более 5 мм; – стежки и строчки не должны быть затянуты; – стебельчатые стежки должны иметь одинаковый наклон; – строчка стежков должна быть выполнена точно по намеченным линиям; – нитка должна быть прочно закреплена в начале и в конце работы
4	Произведите окончательную ВТО с изнаночной стороны	Температура утюга – 180° С (хлопок/лён)

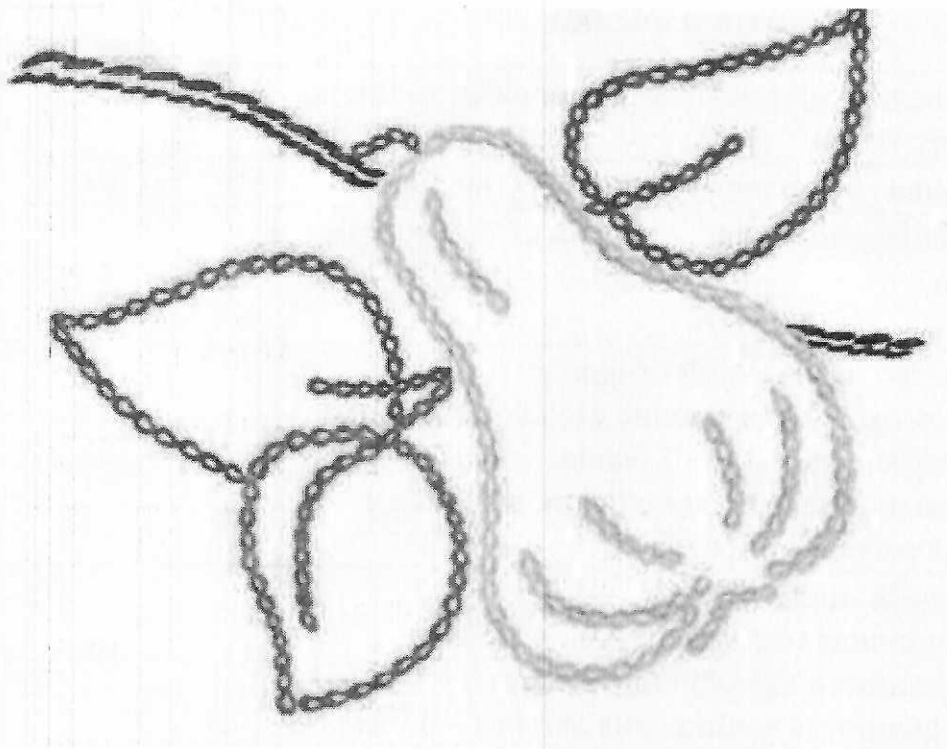
Самоконтроль

- Строчки и швы должны быть ровные и аккуратные.
- Цветовая гамма должна быть гармоничной.
- Должны соблюдаться правила безопасной работы.

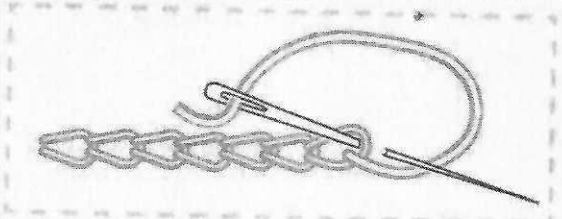

Максимальная оценка: **35 баллов.**

Шифр участника Т-38

Лист с мотивом вышивки



Приложение 1

Вышивальный шов	
тамбурный шов	
стебельчатый шов	

Шифр участника Т-38

**Карта пооперационного контроля практической работы
Выполнение вышивки «Груша»**

№ п/п	Критерии оценки	Максимальный балл	Баллы по факту
1	Переведённый рисунок расположен точно по центру ткани	2	2
2	Вышивка выполнена по контуру рисунка	6	6
3	Соблюдение длины стежков не более 5 мм – 4 балла,	4	4
4	Качество изнаночной стороны: равномерное затягивание стежков – 2 балла, отсутствие узелков – 1 балла, аккуратное закрепление ниток в начале и конце работы – 2 балла	5	0 0 0
5	Внешний вид: гармоничная цветовая гамма – 3 балла, аккуратность выполненной работы – 4 балла, законченность вышивания мотива – 5 балла	12	3 4 5
6	Качественно выполненная влажно-тепловая обработка изделия	3	0
7	Соблюдение правил безопасной работы и правильная организация рабочего места	3	3
	Всего	35	27

Шифр участника _____

Уважаемый участник!

Школьный этап олимпиады по труду (технологии) проходит в 2 тура:

- 1 тур – теоретический (вопросы и тесты, творческое задание);
- 2 тур – практическая работа: ручная обработка швейного изделия или узла;

Время на выполнение олимпиадных заданий:

- тестирование участников в течение - 40 мин.;
- выполнение практической работы - 90 мин;

Общая максимальная сумма баллов, которую может набрать конкурсант - 55 баллов.

Эта сумма распределяется в следующих величинах по турам конкурса:

I тур. Теоретические задания (20 баллов)

- тестирование (проверка теоретических знаний) - **14 баллов;**
- творческое задание (используя цветные карандаши) - **6 баллов.**

II тур. Практическая работа (35 баллов)

- выполнение практического задания

Комплект для первого тура олимпиады включает 15 заданий, из которых 14 заданий теоретические и одно задание творческое.

Вам необходимо внимательно прочитать текст каждого задания и выполнить его в строгом соответствии с формулировкой, то есть дать на каждый из вопросов как можно более полный ответ и выполнить все необходимые расчеты.

Каждое правильно выполненное задание № 1-14 оценивается в 1 балл, полностью правильно выполненное задание № 15 оценивается в 6 баллов.

Максимальное количество баллов, которое участник может набрать в первом туре, составляет 20 баллов.


Продолжительность первого (теоретического) тура составляет 40 минут.

Шифр участника _____

I тур. Теоретические задания

Общая часть

1. (1 балл) Стены станции «Давыдково» Большой кольцевой линии московского метрополитена украшены барельефами с изображениями работников МЧС (Министерство Российской Федерации по делам гражданской обороны, чрезвычайным ситуациям и ликвидации последствий стихийных бедствий). Рассмотрите фотографию.



Изображение представителя какой профессии приведено на данной фотографии?

- а) сапёр
- б) лётчик
- в) водолаз
- г) кинолог
- д) пожарный







Ⓚ

Ответ: д

Всероссийская олимпиада школьников по труду (технологии) (школьный этап)
2024-2025 учебный год
направление «Культура дома, дизайн и технологии»
5-6 класс

Шифр участника _____

2. (1 балл) Среди предложенных изображений выберите то, на котором приведена маркировка с упаковки изделия, указывающая на то, что груз следует защищать от попадания прямых солнечных лучей.

А		Г	
Б		Д	
В		Е	


1) Ответ: А

3. (1 балл) В апреле 1899 года состоялось открытие первой линии трамвая в Москве. Она прошла от Бутырской заставы до Петровского парка. Проезд на трамвае стоил 6 копеек. Сколько нужно было заплатить копеек за проезд на трамвае семье, состоявшей из папы, мамы, бабушки, дедушки, дяди и двух детей? Каждому члену семьи нужно было приобрести билет за полную цену.

1) Ответ: 42

Шифр участника _____

4. (1 балл) Рассмотрите рисунки. Определите, на каких из них изображены сельскохозяйственные культуры.



0
Ответ: А, Е

5. (1 балл) Деревянный брус имеет форму прямоугольного параллелепипеда. Длина бруса равна 21 см, ширина 15 см, высота 120 мм. Определите объём данного бруса. Ответ выразите в кубических сантиметрах.

1
Ответ: 3780 см³

Шифр участника _____

Специальная часть

6. (1 балл) Выберите, к какому виду художественной росписи относится изделие, изображённое на рисунке.



- а) гжельская роспись
- б) мезенская роспись
- в) городецкая роспись
- г) жостовская роспись
- д) хохломская роспись
- е) семикаракорская роспись

1

Ответ: А

7. (1 балл) Из предложенного списка выберите блюдо, в рецепт которого входят только пищевые продукты растительного происхождения.

- а) омлет
- б) какао
- в) суп харчо
- г) винегрет

1

Ответ: Г

8-9

8. (1 балл) Отгадайте загадку, получите название пищевого продукта. В ответ запишите только одно слово в именительном падеже.

«Не снег,
А белое всегда.
Хоть и течёт,
А не вода».

1

Ответ: МОЛОКО

Шифр участника _____

9. (1 балл) Из предложенного списка выберите все пищевые продукты, сырьём для производства которых является отгадка на загадку.

а) масло сливочное б) гречневая крупа в) йогурт г) морковь д) баранина е) сыр

Ответ: А, В, Е

10. (1 балл за полностью верный ответ) Внимательно рассмотрите изображения сервировки стола. Для каждого названия приёма пищи выберите одно, соответствующее ему изображение сервировки.

Названия приёмов пищи			
завтрак		обед	
1		2	
Изображения сервировки			
			
А	Б	В	Г

Ответ: 1-А, 2-Г

11. (1 балл) Из предложенного списка выберите слово, чтобы получить известную пословицу: «Каково волокно, таково и ...».

а) толокно б) полотно в) домино г) Бородино

Ответ: Б

12. (1 балл) Сколько бутербродов с колбасой можно приготовить из трёх батонов хлеба, 2 кг молочной колбасы и 300 г сливочного масла, если для приготовления 1 бутерброда нужно 50 г колбасы, 1 кусок хлеба и 5 г сливочного масла? Хлеб купили в нарезке, в одном батоне 25 кусков.

Решение:

Ответ: 40

Шифр участника _____

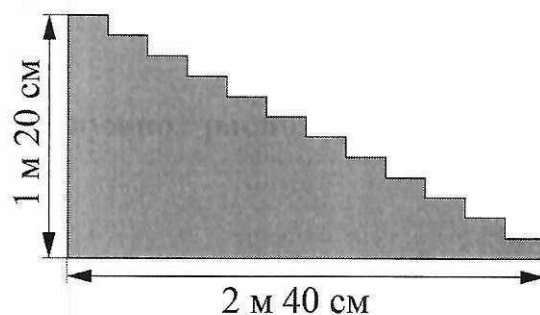
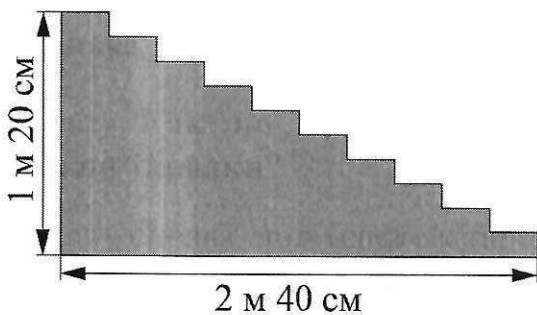
13. (1 балл) Как по правилам этикета нужно расположить нож и вилку относительно тарелки?

- а) нож и вилку справа, нож ближе к тарелке
- б) нож справа, вилку слева
- в) нож и вилку слева, нож ближе к тарелке
- г) нож и вилку справа, вилка ближе к тарелке
- д) нож и вилку слева, вилка ближе к тарелке

Ответ: б

1

14. (1 балл) В доме две парадные лестницы. У первой лестницы 10 ступенек, у второй – 12 (см. рисунок). Высота обеих лестниц 1 м 20 см, длина основания 2 м 40 см. Для какой лестницы понадобится ковровая дорожка большей длины?



- а) для первой
- б) для второй
- в) дорожки одинаковые

1

Ответ: б

Шифр участника _____

15. (6 баллов). Творческое задание.


Выполните один из эскизов фартука с нагрудником (на выбор) по предложенному описанию, используя разные цвета, дополняя своей декоративной отделкой и фасонными изменениями:

А) с закругленным низом, на бретелях, с двумя накладными карманами;

Б) отрезной с трапециевидным нагрудником, на бретелях, нижняя часть с мягкими складками по талии, низ которого заканчивается одним большим накладным карманом;

В) отрезной с нагрудником в форме сердца, на бретелях, нижняя часть со сборкой по линии талии.

1. Внесите ответы в таблицу:

Описание (А, Б, или В)	Эскиз (3 балла)
<p>А</p> <hr/>	
<p>Волокнистый состав ткани (2 балла)</p>	
<p>Декоративная отделка и фасонные изменения (1 балла)</p> 