

Всероссийская олимпиада по географии
2024/25 учебный год
Школьный этап

202-85
418

Задания для участников 11 класса

Время, отведенное на выполнение заданий обоих туров – 90 минут

Максимальное количество баллов за оба тура – 100.

Внимательно прочитайте каждое задание. Ответ записывайте разборчиво.

Примечание. Не разрешается пользоваться школьными атласами и другими источниками информации.

Шифр 202-85.

Часть 1 – тестовый тур

1. Укажите государство, к которому относятся Фарерские острова:

- а) Португалия;
- б) Испания;
- в) Дания;
- г) Швеция.

Ответ: б) Испания 0

Критерии оценивания: за правильный ответ - 1 балл.

2. Определите страну по ее краткому описанию.

В этой стране железнодорожный транспорт получил развитие достаточно давно, и сегодня не играет ведущей роли, но по показателям его работы, например, по грузообороту, страна прочно лидирует в мире. Страна также лидирует по протяженности сети железных дорог, однако доля электрифицированных дорог крайне мала, и составляет всего 1%.

- а) Россия;
- б) Канада;
- в) Китай;
- г) США;
- д) Германия.

Ответ: в) Китай 0

Критерии оценивания: за правильный ответ - 1 балл.

3. Выберите вариант, в котором присутствуют только страны – абсолютные монархии:

- а) Великобритания, Дания, Испания;
- б) ОАЭ, Катар, Оман;
- в) Германия, Австрия, Индия;
- г) США, Франция, Россия.

Ответ: б) 1

Критерии оценивания: за правильный ответ - 1 балл.

4. Укажите остров, на котором находятся территория формально одного государства, а фактически - двух государств:

- а) Тимор;
- б) Калимантан;
- в) Кипр;
- г) Крымский;
- д) Ирландия.

Ответ: д) Ирландия 0

Критерии оценивания: за правильный ответ - 1 балл.

5. В какой из стран столица не является крупнейшим городом своей страны?

- а) Египет
- б) Франция
- в) Чехия
- г) Аргентина
- д) Швейцария

Ответ: б) Чехия 0

Критерии оценивания: за правильный ответ - 1 балл.

6. Выберите группу стран с самым высоким естественным приростом населения:

- а) КНДР, США, Австралия, Япония;
- б) Испания, Сан-Марино, Словакия, Россия;
- в) Латвия, Сербия, Болгария, Украина;
- г) Нигер, Уганда, Малави, Бурунди.

Ответ: г) 1

Критерии оценивания: за правильный ответ - 1 балл.

7. Выберите группу стран с минимальным уровнем урбанизации в мире:

- а) Бельгия, Венесуэла, Великобритания, Австралия;
- б) Бурунди, Малави, Уганда, Кения;
- в) Чехия, Россия, Болгария, Швейцария;
- г) Германия, Белоруссия, Греция, Испания.

Критерии оценивания: за правильный ответ - 1 балл. 1

8. Выберите вариант, в котором представлены только самые крупнейшие морские порты мира:

- а) Нагоя, Хьюстон, Антверпен, Тиба;
- б) Гамбург, Сан-Луис, Ванкувер, Иокогама;
- в) Амстердам, Хошимин, Ричардс-Бей, Кобе;
- г) Шанхай, Сингапур, Тяньцзинь, Гуанчжоу.

Критерии оценивания: за правильный ответ - 1 балл. 1

9. Определите страну по ее краткому описанию.

Эта страна входит в десятку крупнейших в мире по площади и по населению. Страна имеет большую долю обрабатываемых земель и благоприятные агроклиматические условия. Большая часть расположена в пределах докембрийской плиты. Недр страны богаты месторождениями железных, медных, марганцевых, вольфрамовых руд, бокситов, хромитов, слюды, золота, алмазов, редких и драгоценных камней, а также каменного угля, нефти и газа. Приморская полоса восточного побережья местами заболочена. Большая доля водных ресурсов приходится на две крупные реки, протекающих на севере страны и общую дельту, занимающую площадь свыше 80 тыс. км². Слабо расчленённые, низкие, песчаные берега почти не имеют удобных естественных гаваней, поэтому крупные порты расположены либо в устьях рек, либо устроены искусственно. Почти 70% жителей страны проживают в сельских регионах, хотя за последние десятилетия миграция в большие города привела к резкому увеличению городского населения.

Ответ: Страна Бразилия 0

Крупнейшая река Амазонка

Критерии оценивания: за каждый правильный ответ - 1 балл, всего - 2 балла.

10. В таблице приведены данные по запасам и добыче природного газа в России в 2015 г. (млрд.м³) по крупнейшим разрабатываемым месторождениям. Определите два месторождения, являющимися лидерами по показателю ресурсообеспеченности

| Месторождение | Запасы | Добыча | Ресурсообеспеченность |
|---------------|--------|--------|-----------------------|
|---------------|--------|--------|-----------------------|

| | | | |
|--------------|------|------|--|
| Уренгойское | 5370 | 89,7 | |
| Заполярье | 2274 | 79,3 | |
| Ямбургское | 3057 | 61,8 | |
| Астраханское | 3076 | 11,1 | |
| Медвежье | 556 | 7,6 | |

Ответ: 1 место Амрасанское 2 место Медвежье 2
 Критерии оценивания: за каждый правильный ответ - 1 балл, всего - 2 балла.


11. Какая страна из предложенного списка омывается водами только одного океана?

- а) Египет
- б) Израиль
- в) Колумбия
- г) Марокко
- д) Таиланд

Ответ: в) Колумбия 0
 Критерии оценивания: за правильный ответ - 1 балл.

12. Прочитайте описание. Назовите страну.

Этот флаг был официально принят в 1969 году. Он диагонально разделен на две части: верхняя левая часть – желтого цвета, а нижняя правая часть – оранжевого цвета. Посередине флага страны находится эмблема белого дракона, смотрящего направо. Дракон держит драгоценности в своих когтях, что обозначает богатство государства. Изображенный на флаге дракон символизирует местное наименование страны – Земля Дракона. Рычащий рот дракона представляет собой силу народа, защищающего свою страну. Оранжевый цвет обозначает монастыри и религию местную религию, а оранжево-желтый цвет символизирует светскую власть монарха. Белый цвет обозначает чистоту и преданность.



- а) Непал
- б) Бутан
- в) Бруней
- г) Камбоджа
- д) Япония

Ответ: Страна в. Бруней 0
 Критерии оценивания: за правильный ответ - 2 балла.

13. Найдите по одному лишнему слову в каждом варианте, характеризующем отдельную страну:

- а) Беларусь: зубр, полесье, картофель, МАЗы, золото, Днепр;
- б) Италия: мода, НАТО, Рурский бассейн, туризм, рыба, Фиат, Сардиния.

Ответ: а) Золото б) Рурский бассейн 2
 Критерии оценивания: за каждый правильный ответ - 1 балл, всего - 2 балла.

14. Выберите показатели, которые характерны и для Бразилии, и для Индии:

- а) входят в десятку крупнейших стран по численности населения
- б) слабоурбанизированные страны
- в) федеративные республики
- г) входят в пятёрку стран-лидеров по добыче железной руды
- д) высокая грамотность населения
- е) являются членами БРИКС
- ж) крупнейшие экспортёры судов

з) отраслью специализации является нефтяная промышленность

Запишите буквы, под которыми указаны все правильные варианты ответа.

Ответ: д, в, ж

Критерии оценивания: за каждый правильный ответ - 1 балл, всего - 4 балла.

15. Выберите из предложенного списка термины, обозначающие местные ветры.

- а) фригана
- б) мистраль
- в) буря
- г) падун
- д) хабуб
- е) гало
- ж) верховик
- з) сюрин
- и) сирокко
- к) пассат

Запишите буквы, под которыми указаны все правильные варианты ответа.

Ответ: б, з, к

Критерии оценивания: за каждый правильный ответ - 1 балл, всего - 5 баллов.

16. Почитайте отрывок из сказки С. Лагерлеф «Чудесное путешествие Нильса с дикими гусями». Почему путешественники никак не могли дожидаться наступления ночи?

«... А солнце катилось по небу и уставало светить.

– Не понимаю, – сказал Мартин, – летим, летим, а вечер так все никак не наступит. До чего же спать хочется!

– И мне спать хочется! – сказала Марта. – Глаза слипаются.

– Да и я бы не прочь вздремнуть, – сказал Нильс.

– Смотри, смотри, Мартин, вон аисты на болоте спят. Тут, в Лапландии, все по-другому. Может, здесь вместо луны всю ночь солнце светит?»

Ответ: Они летят в восток, 2. Они летят в ту сторону куда заходит солнце. 2. Они летят на восток

Критерии оценивания: за правильный ответ - 2 балла.

17. Определите субъект Российской Федерации по его описанию:

Данный субъект расположен в восточной части страны, его территория омывается водами Мирового океана. По его территории протекает одна из крупнейших рек России. На этой реке есть ГЭС, в регионе отсутствуют АЭС, но работают мощные ТЭС на топливе, в основном добываемом в этом же субъекте.

- а) Хабаровский край;
- б) Красноярский край;
- в) Забайкальский край;
- г) Чукотский автономный округ;
- д) Иркутская область.

Ответ: б)

Критерии оценивания: за правильный ответ - 2 балла.

18. Для какого города указано НЕ ПРАВИЛЬНОЕ расположение на берегу реки?

- а) Барнаул – Обь;
- б) Якутск – Лена;
- в) Иркутск – Ангара;
- г) Пермь – Волга;
- д) Хабаровск – Амур;

Ответ: г)

Критерии оценивания: за правильный ответ - 2 балла.

19. Как звали погибшего хантыйского князя, в честь которого назван исторический район города

Столица Ханты – Мансийского автономного округа – Югры – город Ханты – Мансийск. Ровно 430 лет назад здесь произошло важное историческое событие: небольшой отряд атамана Ермака под предводительством Богдана Брязги подошёл на лодках к хантыйскому поселению. Между казаками и ханты произошло сражение. Но казаки пошли на хитрость: они смастерили чучела людей и посадили их в лодки. Стрелы ханты со звоном отскакивали от чучел. В результате князь хантыйского поселения погиб, а все жители присягнули на верность московскому царю.

Ответ: Самсеп.

4

Критерии оценивания: за правильный ответ - 4балла.

Часть 2 – теоретический тур

Задание 1. Вставьте пропущенные слова в данный текст описания одной из стран мира.

Рельеф страны преимущественно горный, горы занимают 71% территории, имеются многочисленные действующие и потухшие вулканы; в том числе и высшая точка страны – Фезула (на острове _____, высотой 3776 м). Полезными ископаемыми бедна, практическое значение имеют лишь запасы каменного угля. Добывается также сера, йод, золото и серебро.

На севере страна омывается Охотским морем, на западе Японским морем, на юго-западе – Индонезийским морем, на востоке – Тихим океаном.

Климат большей части территории – субтропический муссонный, на севере – умеренный, на юге – тропический. Свыше 2/3 занято лесами: на севере – хвойными, в центральной части – широколиственными и на юге – субтропическими вечнозелеными.

Является развитой страной, значительную долю в экономике занимает сфера услуг. По объему промышленного производства занимает одно из первых мест в мире. В обрабатывающей промышленности наиболее развиты машиностроение (производство автомобилей, электроники и электротехники, судов, станков), чёрная металлургия, химическая, текстильная и пищевая промышленность. Основным средством передвижения является автотранспорт, использующий лева / стороннее движение.






По форме правления страна является абсолютной монархией во главе с Императором. Население практически однородное, лишь на севере острова проживают _____. В стране проживает 126 млн. человек (в 2018 г.), и по этому показателю она находится на 7 месте в мире. Большинство верующих – _____ и _____, причем, обычно исповедуют сразу две религии. Столицей страны является город Токио. В пределах столичной агломерации проживают 35 млн. человек (2017 г.).

Критерии оценивания: за каждый правильный ответ - 1 балл, всего - 16 баллов.

Задание 2. Вам предлагаются описания и изображения некоторых форм рельефа, различных по своему происхождению и геоморфологических (геоморфология – наука о происхождении и формах рельефа) процессов и явлений. Выберите из предложенных списков эти формы рельефа или процессы и впишите в соответствующую колонку таблицы.

1. **Формы рельефа:** столовые горы, старица, атолл, бугры пучения, фиорд (фьорд),

| № | Описание формы рельефа | Название |
|---|------------------------|----------|
|---|------------------------|----------|

| № | Описание формы рельефа | Название |
|----|-----------------------------------------------------------------------------------------------------------------------------------------------------------------------------------------------------------------------------------------------------------------------------------------------------------------------------------------------------------------------------------------------------------------------------------------------------------------------------------------------------------------------------------------------------------------------------------------------------------------------------------------------------------------------------------------------------------|------------------------------|
| 1. | <p>Кольцевой коралловый риф, морфологически представляющий собой узкую гряду с замкнутой (или полузамкнутой) внутри лагуной. Размеры их различны – от нескольких километров до нескольких десятков километров. Есть поднятые (остров Науру) и погруженные (банка Робби) вследствие тектонических движений их оснований.</p>  <p>Большинство концентрируются в Индо-Тихоокеанском тропическом поясе, однако известны они и в Атлантике, например, в Карибском море и у побережья Бразилии.</p> | <p>Сенгала </p> |
| 2. | <p>Формы рельефа, образующиеся при промерзании переувлажненных грунтов. Широко распространены в тундре и тайге. Подобный вид, но более крупные размеры (около 100 м в поперечнике и до 20 м высоты) имеют гидролакколиты и булгуньяхи в Якутии.</p>  | <p>Бугры тундры </p> |
| 3. | <p>Старое отделившееся русло реки в излучине, превратившееся в озеро. Впоследствии в таких местах образуются сырые ложбины.</p>  | <p>Смерщца </p> |
| 4. | <p>Платообразные горные сооружения с усеченной, плоской вершиной. Как правило, сложены из осадочных горных пород. Склоны такой горы обычно крутые, почти отвесные. В разрезе этот вид геологических образований имеет продолговатую форму, то есть в одном из направлений плато на вершине горы вытянуто. Своей усеченной в верхней части формой обязаны процессам денудации – эрозии и выветриванию. Одной из разновидностей являются те горы, у которых их плоская вершина сложена не из осадочных пород, а покрыта затвердевшей вулканической корой из лавы. Такие горы на Гвианском нагорье называются тепуи.</p>  | <p>Столбовые горы </p> |
| 5. | <p>Узкий глубокий морской залив с высокими крутыми скалистыми берегами, далеко вдающийся в сушу. Образование таких форм увязывают с внедрением моря в ледниковые долины либо в тектонические разломы. Распространены по берегам Скандинавского п-ова, на Кольском п-ове, Чукотке.</p>  | <p>Фьорды Фьорды </p> |

2. Процессы: криогенные процессы, аккумуляция, денудация, карст, золотые процессы.

| № | Описание геологического процесса | Название |
|----|-----------------------------------------------------------------------------------------------------------------------------------------------------------------------------------------------------------------------------------------------------------------------------------------------------------------------------------------------------------------------------------------------------------------------------------------------------------|-----------------------|
| 1. | Процессы накопления рыхлого минерального материала и органических остатков на поверхности суши и на дне водоемов. В зависимости от основного фактора, вызывающего этот процесс, выделяют морскую, озерную, речную, ветровую, биогенную, антропогенную и другие типы. | Золотые. 0 |
| 2. | Процесс сноса и частичного перемещения продуктов выветривания горных пород под действием разных факторов и агентов (гравитации, воды, ветра и др.). | Карст 0 |
| 3. | Процессы, происходящие в местах распространения многолетней и сезонной мерзлоты, при содержании в грунтах замёрзшей воды. Проявляются в пучении и морозной сортировке грунтов, растрескивании, в создании морозобойных клиньев и т.д. | Криогенные процессы 1 |
| 4. | Группа внешних (экзогенных) процессов, связанных с деятельностью ветра. Наиболее активно проявляются в аридных (сухих) условиях. Различают действие с созданием ниш, котлов выдувания и аккумулятивное – с образованием дюн, барханов и др. | аккумуляция. 0 |
| 5. | Название этого процесса произошло от одноименного наименования известнякового плато в Словении. Он представляет собой совокупность процессов и явлений, связанных с деятельностью воды и выражающихся в растворении горных пород и образовании в них пустот, а также своеобразных форм рельефа, возникающих на местностях, сложенных сравнительно легко растворимыми в воде горными породами – гипсом, известняком, мрамором, доломитом и каменной солью. | денудация. 0 |

Критерии оценивания: за каждый правильный ответ - 1 балл, всего - 10 баллов.

Задание 3.

В предложенном тексте в скобках подчеркнуть правильные ответы.

Республика Саха (Якутия) – субъект РФ в (Дальневосточном/Сибирском) федеральном округе; относится к Восточно-(Сибирскому/Дальневосточному) экономическому району. Образован в 1922 г. Административный центр – город Якутск, в котором в (2108) г. проживает (312 тыс. чел. /964 тыс. чел.). Граничит с Чукотским АО и Магаданской областью на востоке, с Хабаровским краем на юго-востоке, на юге – с Амурской областью и Забайкальским краем, с на западе граничит с Красноярским краем. Время в республике отличается от московского на (4 /5 /6 / 7/ 8) часов. Регион является (первым/вторым) по площади субъектом России. Площадь территории – 3 103,3 тыс. км², что составляет 18,1% территории России. На севере она омывается водами двух морей – (морем Лаптевых/Чукотским морем) и (Восточно-Сибирским морем/Карским морем). На севере в состав Якутии (входит архипелаг Северная Земля/ входят Новосибирские острова).

Всего в Якутии сосредоточено большое количество российских запасов угля. Масштабная угледобыча ведётся в Южно-Якутском (буроугольном/каменноугольном) бассейне. На западе региона возле города (Мирный/Норильск) создана и существует и сегодня очень мощная алмазодобывающая промышленная инфраструктура.

Климат в республике (умеренно/резко) континентальный, характерны сильные колебания температур воздуха в течение года. Разница температур самого холодного месяца — января и самого тёплого — июля составляет 70-75°C. Именно в Якутии находится Полюс холода северного полушария (Оймякон/Верхоянск), где в феврале 1892 г. была зарегистрирована температура (-67,8°C/-89,2°C).


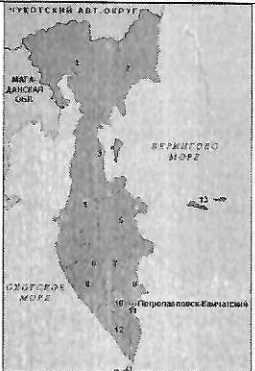


Якутия относится к благополучным по обеспеченности водными ресурсами регионам. Западная часть региона расположена в бассейне реки (Енисей/Лена), восточная – в бассейнах рек Яны, Индигирки и Колымы. Большая часть территории Якутии расположена в зоне (тайги/тундры). Самым





крупным этносом является (якуты/русские), на которых приходится 49,9% населения (по переписи 2010 г.).

Критерии оценивания: за каждый правильный ответ - 1 балл, всего - 16 баллов.

Задание 4.

«Определи объект по его изображению». Вам предстоит указать название полуостровов и ответить на вопросы, касающихся каждого из них. Результат занесите в таблицу.

| № | Изображение | Название объекта | Особенности объекта |
|---|-------------------------------------------------------------------------------------|------------------|----------------------------------------------------------------------------------------------------------------------------------------------------------------------------------------------|
| 1 |  | Иберийский п-ов | <p>Две крупные страны, расположенные на этом полуострове:</p> <p>1. <u>Испания</u> ;</p> <p>2. <u>Португалия</u> .</p> |
| 2 |  | Камчатский п-ов. | <p>1. Название океана, в который впадает этот полуостров: <u>Тихий</u> . ;</p> <p>2. Название региона России, который частично расположен на этом полуострове: <u>Камчатка</u> .</p> |
| 3 |  | Итальянский п-ов | <p>1. Название страны, в основном располагающейся в границах этого полуострова: <u>Италия</u> .</p> |
| 4 |  | Аравийский п-ов | <p>1. Самая крупная страна на полуострове: <u>ОАЭ</u> .</p> <p>2. Залив на северо-востоке полуострова: <u>Персидский</u> . !</p> |

| | | | |
|----|-------------------------------------------------------------------------------------|----------------------------|------------------------------------------------------------------------------------------------------------------------------------------------------------------------------------------------|
| 5 |  | <p>п-ов. Флоренция и.</p> | <p>1. К территории какой страны относится полуостров: <u>США</u> . 1</p> |
| 6. |  | <p>Скандинавский п-ов.</p> | <p>Назовите две страны, территории которых полностью расположены на этом полуострове: 1. <u>Норвегия</u> ; 2 2. <u>Швеция</u> .</p> |
| 7. |  | <p>Малайский п-ов.</p> | <p>1. К какой стране относится этот полуостров: <u>Малайзия</u> . 0</p> |
| 8 |  | <p>Индийский п-ов.</p> | <p>1. Какая страна занимает практически полностью территорию этого полуострова: <u>Индия</u> . 2</p> |

Критерии оценивания: за каждый правильный ответ - 1 балл, всего - 20 баллов.

Задание 5.

Ответьте на вопрос

На тюменской земле берут старт мощные нефте- и газопроводы. Стальные артерии связали нас с центром страны, Волгой и Дунаем, пересекли государственные границы. Какие из них были самые первые, а какие самые длинные?

"Дружба", "Восток", "Кур" 0

Критерии оценивания: за каждый правильный ответ - 1 балл, всего - 2 балла.

415